

小学入試準備用最高水準問題集 新特訓シリーズ

年長用  
分野別 **19 図形と数の融合**

- ◆新特訓シリーズは、分野別に10枚のペーパーで基礎から応用までを総チェック
- ◆入試頻出パターンを網羅した段階別のオリジナル問題
- ◆使いやすい別紙解答付き



図形と数の融合 19

fokkun

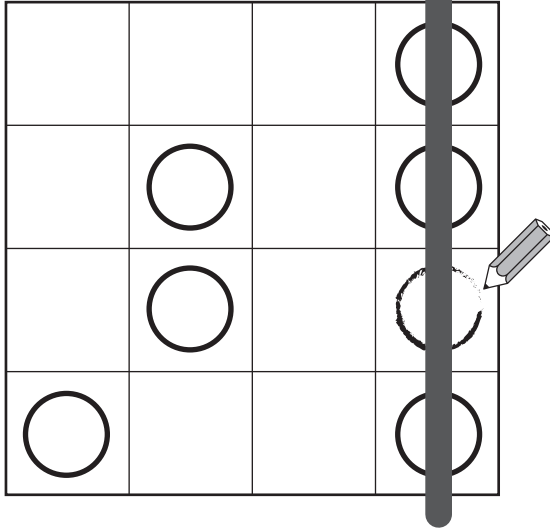
定価 本体800円 +税

教育図書21


# 図形と数の融合－ 8 ビンゴ

(1)～(3) マスに1つだけ○を書いて、たて・よこのどこかに1列つくります。  
 (4)～(5) マスに1つだけ○を書いて、たて・よこのどこかに2列つくります。

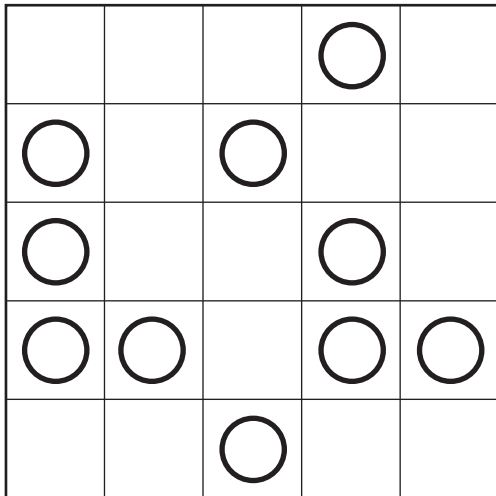
お手本




(1)



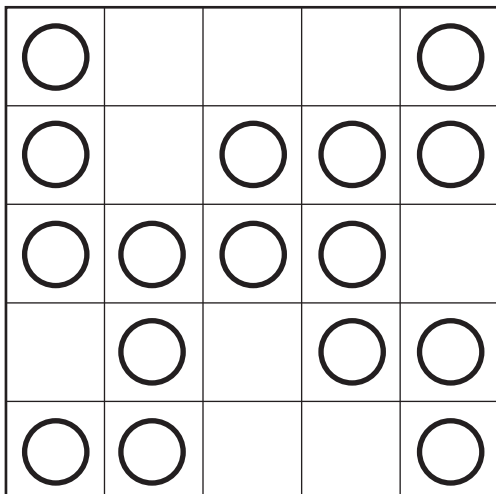
(2)



(3)



(4)



(5)

